



**SÓ ABRA QUANDO AUTORIZADO**  
**LEIA COM ATENÇÃO AS INSTRUÇÕES ABAIXO**

**CONFIRA O SEU CADERNO**

01. Este caderno de provas contém questões de múltipla escolha dispostas em ordem numérica, com apenas uma alternativa correta.
02. Confira seu caderno quando o Fiscal de Sala autorizar, pois não lhe será entregue outro, exceto no caso do item 3.
03. Se houver falhas: *folhas em branco, páginas trocadas, falta de questão, má impressão, levante o braço*. O Fiscal de Sala trocará seu caderno.
04. Confira se o caderno de questões corresponde ao cargo para o qual se inscreveu.

**INSTRUÇÕES E CUIDADOS NO PREENCHIMENTO DA FOLHA DE RESPOSTAS**

01. Confira cuidadosamente seus dados na Folha de Respostas, assine-a, e comunique ao Fiscal de Sala em caso de alguma divergência, não faça qualquer alteração em sua folha.
02. Use caneta esferográfica de tinta azul ou preta.
03. As Folhas de Respostas preenchidas a lápis, não serão aceitas.
04. Preencha todos os espaços corretamente, a Leitora Óptica é sensível a marcas escuras.
05. Ao terminar, verifique se todas as respostas foram marcadas, mais de uma resposta marcada ou rasurada, invalidará a questão.
06. Leia atentamente as instruções na Folha de Respostas.
07. Valem, exclusivamente, as respostas corretamente assinaladas na Folha de Respostas.

Como preencher:

ASSIM 

	A	B	C	D
01	<input type="checkbox"/>	<input type="checkbox"/>	<input type="checkbox"/>	<input type="checkbox"/>
02	<input type="checkbox"/>	<input type="checkbox"/>	<input type="checkbox"/>	<input type="checkbox"/>
03	<input type="checkbox"/>	<input type="checkbox"/>	<input type="checkbox"/>	<input type="checkbox"/>
04	<input type="checkbox"/>	<input type="checkbox"/>	<input type="checkbox"/>	<input type="checkbox"/>
05	<input type="checkbox"/>	<input type="checkbox"/>	<input type="checkbox"/>	<input type="checkbox"/>
06	<input type="checkbox"/>	<input type="checkbox"/>	<input type="checkbox"/>	<input type="checkbox"/>
07	<input type="checkbox"/>	<input type="checkbox"/>	<input type="checkbox"/>	<input type="checkbox"/>
08	<input type="checkbox"/>	<input type="checkbox"/>	<input type="checkbox"/>	<input type="checkbox"/>

**ATENÇÃO:**

01. Use para rascunho as partes em branco do caderno.
02. Não será permitido qualquer outro material sobre a carteira, que não seja o da prova.

**PREENCHIMENTO OBRIGATÓRIO**

nº Insc. \_\_\_\_\_

Nome por extenso \_\_\_\_\_

**CARGO: FARMACÊUTICO**

01		11		21		31		41		51		61		71		81		91		101		111	
02		12		22		32		42		52		62		72		82		92		102		112	
03		13		23		33		43		53		63		73		83		93		103		113	
04		14		24		34		44		54		64		74		84		94		104		114	
05		15		25		35		45		55		65		75		85		95		105		115	
06		16		26		36		46		56		66		76		86		96		106		116	
07		17		27		37		47		57		67		77		87		97		107		117	
08		18		28		38		48		58		68		78		88		98		108		118	
09		19		29		39		49		59		69		79		89		99		109		119	
10		20		30		40		50		60		70		80		90		100		110		120	

Este gabarito será destacado somente pelo Fiscal de Sala no momento da entrega da Prova

Os candidatos aprovados poderão obter o CERTIFICADO DE APROVAÇÃO deste concurso no site [www.conseps.com.br](http://www.conseps.com.br) mediante pagamento de taxa. O envio será feito após a homologação do resultado.



## FARMACÊUTICO

### CONHECIMENTOS ESPECÍFICOS

01. Correlacione a substância com as listas do regulamento técnico da Portaria nº 344 de 12/05/1998 da ANVISA e indique a sequência correta:

- (1) Lista A1
- (2) Lista B1
- (3) Lista C1
- (4) Lista D1
- (5) Lista F1

- ( ) Nitrazepam
- ( ) 1-fenil-2propanona
- ( ) Heroína
- ( ) Petidina
- ( ) Cetamina

Assinale a sequência correta:

- (A) 2, 5, 4, 3, 1
- (B) 4, 3, 1, 2, 5
- (C) 2, 4, 5, 1, 3
- (D) 3, 4, 5, 1, 2

02. O produto químico cujo grau de pureza é de 99,9% é definido como:

- (A) Comercial.
- (B) Atomicamente puro.
- (C) Pró-análise.
- (D) Para uso farmacêutico.

03. Mulheres em tratamento para Osteoporose com Raloxifeno apresentam um risco maior em desenvolver:

- (A) Trombose venosa.
- (B) Câncer de mama.
- (C) Vaginite atrófica.
- (D) Hipercolesterolemia.

04. Uma substância ou mistura de substâncias que requeira posteriores processos de produção, denomina-se:

- (A) Matéria-prima.
- (B) Produto a granel.
- (C) Produto semiacabado.
- (D) Produto acabado.

05. Qual dos seguintes tratamentos será eficaz no combate a infertilidade decorrente de ciclos anovulatórios?

- (A) Tibolona.
- (B) Clomifeno.
- (C) Somente Estrógeno.
- (D) Uma combinação de Estrógeno e Progesterona.

06. Qual dos seguintes fármacos causa Osteomalácia e dor óssea quando administrado cronicamente?

- (A) Risedronato.
- (B) Etidronato.
- (C) Calcitonina.
- (D) Calcitriol.

07. Coloque (V) para as afirmativas Verdadeiras ou (F) para as Falsas:

- ( ) As curvas dose-resposta demonstram a relação entre a dose de um fármaco e o efeito farmacológico resultante.
- ( ) A cinética de ordem zero descreve o metabolismo de uma fração constante de um fármaco disponível em um determinado período.
- ( ) Depuração é o volume de plasma livre de um fármaco pela excreção renal e/ou metabolismo no fígado ou em outros órgãos.

( ) O volume de distribuição descreve a característica da distribuição de um fármaco no organismo e é influenciado por suas características físico-químicas, incluindo a lipossolubilidade, ligação a proteínas plasmáticas e tamanho molecular.

Assinale a alternativa que apresenta a sequência correta, de cima para baixo.

- (A) V / F / F / V
- (B) F / V / V / V
- (C) V / F / V / V
- (D) V / V / F / V

08. A área de estocagem destinada a medicamentos que devem ser mantidos a temperatura ambiente, deve ser entre as seguintes temperaturas:

- (A) 5°C e 25°C.
- (B) 20°C e 35°C.
- (C) 15°C e 30°C.
- (D) 25°C e 40°C.

09. Qual das reações abaixo é uma reação adversa aos aminoglicosídeos?

- (A) Cardiotoxicidade.
- (B) Toxicidade aos nervos periféricos.
- (C) Toxicidade hepática.
- (D) Megacolo tóxico.

10. Entende-se por Análise Prévia:

- (A) Análise efetuada em determinados produtos sob o regime de Vigilância Sanitária, a fim de ser verificado se podem eles ser objeto de registro.
- (B) Análise efetuada em produtos sob o regime de Vigilância Sanitária, após sua entrega ao consumo, e destinada a comprovar a conformidade do produto com a fórmula que deu origem ao registro.
- (C) Análise efetuada sobre os produtos submetidos ao sistema instituído por este Regulamento, em caráter de rotina, para apuração de infração ou verificação de ocorrência de desvio quanto à qualidade, segurança e eficácia dos produtos ou matérias-primas.
- (D) Conjunto de medidas destinadas a verificar a qualidade de cada lote de medicamentos e demais produtos abrangidos por este Regulamento, objetivando verificar se satisfazem as normas de atividade, pureza, eficácia e segurança.

11. As substâncias enquadradas como psicotrópicas pela Portaria nº 344 de 12/05/1998 e cujas prescrições médicas necessitam de notificação de receita "B" são:

- (A) Dopamina, Bromazepam, Amantadina.
- (B) Midazolam, Pentobarbital, Clorzepam.
- (C) Tebaina, Bupivacaína, Alobarbitol.
- (D) Ópio, Clordiazepóxido, Biperideno.

12. São efeitos agudos da deficiência de Insulina sobre o metabolismo de mamíferos:

- (A) Aumento da glicogenogênese, diminuição da glicogenólise, aumento da neoglicogênese, diminuição da lipogênese e aminoacidemia.
- (B) Diminuição do transporte de glicose, aumento de lipogênese, hiperlipidemia, glicosúria e balanço nitrogenado negativo.
- (C) Aumento de glicogenólise, aumento de neoglicogênese, hiperglicemia, aumento da atividade das lipases, diminuição da síntese protéica e poliúria;
- (D) Hipoglicemia, desidratação, insuficiência circulatória, hipolipidemia e balanço nitrogenado positivo.

13. Assinale (V) para as afirmativas Verdadeiras ou (F) para as Falsas quanto à classificação das drogas:

- ( ) Os antipiréticos são exemplos de drogas de ação somática difusa.

- ( ) Drogas que possuem ação semelhante à dos mediadores químicos naturais são chamadas hemolíticas.
- ( ) Os curarizantes são exemplos de drogas que atuam sobre os efetores do sistema nervoso autônomo.
- ( ) A classificação de determinadas drogas como anticolinesterásicas baseia-se nos seus efeitos farmacológicos específicos.

Assinale a alternativa que apresenta a sequência correta, de cima para baixo.

- (A) V / F / F / V  
(B) V / F / F / F  
(C) V / F / V / F  
(D) V / V / F / V

14. No Art. 25 da Lei nº 5.991, de 17/12/1973 - A licença é válida pelo prazo de um ano e será revalidada por períodos iguais e sucessivos. A revalidação de licença deverá ser requerida nos:

- (A) Primeiros 30 (trinta) dias de cada exercício.  
(B) Primeiros 60 (sessenta) dias de cada exercício.  
(C) Primeiros 90 (noventa) dias de cada exercício.  
(D) Primeiros 120 (cento e vinte) dias de cada exercício.

15. O conjunto de medidas destinadas a verificar a qualquer momento, em qualquer etapa da cadeia de produção, desde a fabricação até o cumprimento das boas práticas específicas, incluindo a comprovação da qualidade, eficácia e segurança dos produtos, denomina-se:

- (A) Inspeção de qualidade.  
(B) Controle de qualidade.  
(C) Análise prévia.  
(D) Análise de controle.

16. Quais são as legislações que dispõem sobre o Sistema Nacional de Gerenciamento de Produtos Controlados (SNGPC)?

- I. RDC nº 27, de 30 de março de 2007.  
II. RDC nº 76, de 31 de outubro de 2007.  
III. Instrução Normativa nº 17, de 30 de março de 2007.  
IV. Instrução Normativa nº 11, de 31 de outubro de 2007.

São corretos:

- (A) Apenas os itens I, II e III.  
(B) Apenas os itens I, III e IV.  
(C) Apenas os itens I, II e IV.  
(D) Os itens I, II, III e IV.

17. De acordo com a RDC 44/2009, as Farmácias e Drogarias devem possuir os seguintes documentos no estabelecimento:

- I. Autorização de Funcionamento de Empresa (AFE) expedida pela ANVISA.  
II. Autorização Especial de Funcionamento (AE) para farmácias, quando aplicável.  
III. Licença ou Alvará Sanitário expedido pelo órgão Estadual ou Municipal de Vigilância Sanitária, segundo legislação vigente.  
IV. Certidão de Regularidade Técnica, emitido pelo Conselho Regional de Farmácia da respectiva jurisdição.  
V. Manual de Boas Práticas Farmacêuticas, conforme a legislação vigente e as especificidades de cada estabelecimento.

São corretas:

- (A) Apenas as afirmativas I, III e IV.  
(B) Apenas as afirmativas I, II, III e IV.  
(C) Apenas as afirmativas I, III, IV e V.  
(D) As afirmativas I, II, III, IV e V.

18. No setor de Farmácia, a curva ABC, além de facilitar o controle de estoque:

- I. Propicia um diagnóstico confiável do consumo de medicamentos na Farmácia.  
II. Permite a elaboração de programas de uso racional de medicamentos da curva A, favorecendo a racionalização dos custos.  
III. Auxilia na avaliação da padronização de medicamentos sugerindo exclusão de itens com pouca ou nenhuma saída.

São corretas:

- (A) Apenas as afirmativas I e II.  
(B) Apenas as afirmativas II e III.  
(C) As afirmativas I, II e III.  
(D) Apenas as afirmativas I e III.

19. Uma fórmula farmacêutica composta é constituída, principalmente, dos seguintes componentes:

- (A) Base, coadjuvante, antagonista, corretivo e veículo.  
(B) Base, adjuvante, edulcorante, corretivo e excipiente.  
(C) Base, coadjuvante, intermédio, corretivo e veículo.  
(D) Base, coadjuvante, intermédio, solubilizante e excipiente.

20. Qual das seguintes afirmações a respeito dos inibidores da COX-2 é correta?

- (A) Os inibidores da COX-2 apresentam maior atividade analgésica do que os AINEs tradicionais.  
(B) Os inibidores da COX-2 reduzem a função plaquetária.  
(C) Os inibidores da COX-2 não afetam os rins.  
(D) Os inibidores da COX-2 apresentam atividade anti-inflamatória semelhante a dos AINEs tradicionais.

## LÍNGUA PORTUGUESA

21. Em qual das alternativas a seguir não há um encontro consonantal?

- (A) aniversário  
(B) supremo  
(C) prático  
(D) filho

22. A palavra "beterraba" tem

- (A) sete letras.  
(B) oito letras.  
(C) nove letras.  
(D) dez letras.

23. Sobre os termos acessórios da oração, assinale a alternativa correta em relação à palavra em destaque na oração abaixo.

"**Crianças**, tomem cuidado com a letra."

- (A) Adjunto adnominal.  
(B) Adjunto adverbial.  
(C) aposto.  
(D) vocativo.

24. Assinale a alternativa que apresenta uma locução prepositiva.

- (A) Voltei de Buenos Aires.  
(B) Hoje não estou a fim de sair.  
(C) Ele é especialista em eletrônica.  
(D) Mandei fazer um armário de cerejeira.

25. Identifique a figura de linguagem do enunciado abaixo.

"Ela lê Camões."

- (A) Perífrase  
(B) Metáfora.  
(C) Catacrese.  
(D) Metonímia.

26. Assinale a alternativa correta sobre o uso do hífen, de acordo com a Nova Ortografia, vigente no país.
- (A) microondas.
  - (B) antiinflamatório.
  - (C) co-ordenar.
  - (D) antessala.

27. Assinale a alternativa que contém um adjetivo.

- (A) A mulher venceu todas as lutas.
- (B) A cidade estava misteriosa.
- (C) Ele brinca com a vida.
- (D) Ele conhece muitos países.

28. Assinale a alternativa em que a concordância nominal esteja correta.

- (A) Apareceu com os bolsos cheio de dinheiro.
- (B) Ninguém apareceu, salva a aluna número 1 da lista.
- (C) Eu mesmo irei buscar o livro, disse a secretária.
- (D) Ele não tinha a necessária coragem e persistência.

29. Assinale a alternativa em que não se faz necessário o uso do acento grave indicativo de crase.

- (A) Cheguei às dez horas, e saí à noite.
- (B) Leu o relatório às pressas.
- (C) Ele saiu à procura de socorro.
- (D) Ele visitou à família.

30. Assinale a alternativa em que a regência do verbo esteja incorreta.

- (A) Assisti o filme.
- (B) O marido limpou o prato.
- (C) A mulher ordenou à cozinheira que caprichasse.
- (D) Fiz o que pude para agradar a ambos.

#### CONHECIMENTOS GERAIS

31. O responsável pela planta e pelo púlpito da Igreja de São Francisco de Assis, em Ouro Preto foi:

- (A) Aleijadinho.
- (B) Graça Proença.
- (C) Mestre Valentim.
- (D) Mestre Ataíde.

32. "Londres" é a capital da:

- (A) França.
- (B) Espanha.
- (C) Inglaterra.
- (D) Suíça.

33. O Rio Tâmis está localizado na:

- (A) Espanha.
- (B) Austrália.
- (C) Turquia.
- (D) Inglaterra.

34. A Itália está localizada no Continente:

- (A) Asiático.
- (B) Norte Americano.
- (C) Europeu.
- (D) América Latina (Central).

35. A Corrida Internacional de São Silvestre, que acontece sempre no último dia do ano, ocorre na cidade do(e):

- (A) Rio de Janeiro.
- (B) Curitiba.
- (C) São Paulo.
- (D) Florianópolis.

36. Assinale a alternativa que corresponde ao modo de Produção Capitalista:

- (A) Propriedade privada.
- (B) Sociedade de classes.

- (C) Economia de mercado.
- (D) Todas as alternativas são corretas.

37. A Proclamação da República Brasileira foi um episódio da História do Brasil, ocorrido em 15 de novembro de 1889, que instaurou o regime republicano no Brasil, derrubando a monarquia do Império do Brasil, pondo fim à soberania do Imperador Dom Pedro II, por um grupo de militares liderada por:

- (A) Quintino Bocaiúva.
- (B) Deodoro da Fonseca.
- (C) Benjamin Constant.
- (D) Rui Barbosa.

38. O fim da escravidão no Brasil foi resultado das transformações econômicas e sociais que começaram a ocorrer a partir da segunda metade do Século:

- (A) XX
- (B) XVIII
- (C) XIX
- (D) XVII

39. Dos Estados abaixo o que não faz divisa com o de Tocantins é:

- (A) Mato Grosso do Sul.
- (B) Maranhão.
- (C) Piauí.
- (D) Pará.

40. A "Zona de Cocais" aparece nos estados do Maranhão e Piauí. Sua vegetação é caracterizada pelo predomínio de:

- (A) Aguapés.
- (B) Orquídeas.
- (C) Palmeiras.
- (D) Pequenas árvores.

#### CONHECIMENTOS BÁSICOS EM INFORMÁTICA

41. Assinale a alternativa que não faz referência ao aplicativo Microsoft Office Word.

- (A) Sua função primária é a criação de gráficos.
- (B) É um editor de textos.
- (C) Pode ser utilizado para a criação de mala direta.
- (D) Pode ser utilizado para a edição de modelos de correspondência.

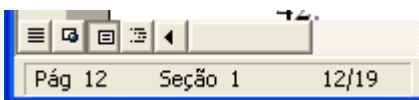
42. A figura a seguir ilustra um serviço da Microsoft com interface muito semelhante ao editor de textos Microsoft Office Word, porém um botão denota uma diferença fundamental, o botão *Abrir no Word*.

O texto faz referência ao serviço, e em qual ambiente ele "roda"?



- (A) Microsoft Office, roda no Microsoft Windows XP Home Edition.
- (B) Microsoft Office Word, em execução no sistema operacional Microsoft Windows 7 Enterprise.
- (C) Linux, em execução no Microsoft Office Windows 7 Ultimate.
- (D) Windows Live SkyDrive, um serviço disponível na internet, no site da Microsoft.

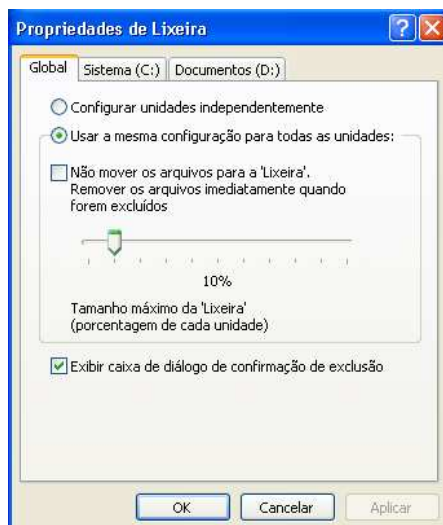
43. O fragmento da janela a seguir foi extraído do editor de textos Microsoft Office Word 2000, na sua instalação padrão, no idioma Português-Brasil. O que pode significar os numerais **12/19** desta ilustração?



- (A) Que está sendo exibido na tela o conteúdo da página 12 de um total de 19 páginas do documento ativo.  
(B) Que existem 12 páginas de um total de 19 páginas possíveis de serem adicionadas neste documento.  
(C) Que a página 12 contém 19 palavras.  
(D) Que na página 12, na Seção 1, na linha 12 existem 19 palavras.
44. Qual é a nomenclatura para o botão encontrado em alguns aplicativos da Microsoft, conforme figura abaixo?

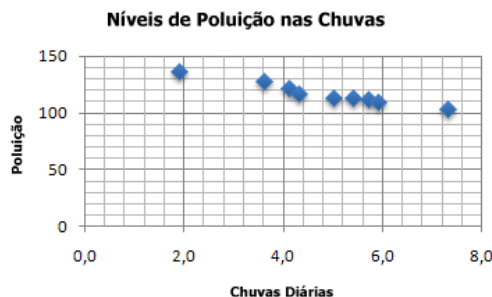


- (A) Botão Windows.  
(B) Botão Iniciar.  
(C) Botão Word.  
(D) Botão Microsoft Office.
45. Assinale a alternativa correta com relação ao *Tamanho máximo da Lixeira*, nas Propriedades de Lixeira, dentro do Microsoft Windows XP Professional, na sua instalação padrão, no idioma Português-Brasil.



- (A) Especifica o tamanho máximo de armazenamento da **Lixeira**. Somente arquivos maiores que o armazenamento máximo serão enviados à **Lixeira**, todos os outros serão excluídos imediatamente em vez de serem armazenados na **Lixeira**.  
(B) Especifica a quantidade máxima de arquivos armazenados na **Lixeira**. Somente o valor máximo de arquivos poderão ser enviados à **Lixeira**, todos os demais serão excluídos imediatamente.  
(C) Especifica a quantidade máxima de arquivos que podem ser armazenados na **Lixeira**. Para o exemplo da figura acima – somente 10% da quantidade total de arquivos poderão ser enviados à **Lixeira**.  
(D) Especifica o tamanho máximo de armazenamento da **Lixeira**. Arquivos maiores que o armazenamento máximo serão excluídos imediatamente em vez de serem armazenados na **Lixeira**.

46. Qual é a nomenclatura utilizada no Microsoft Office Excel 2007, na sua instalação padrão, no idioma Português-Brasil para definir o gráfico a seguir?



- (A) Gráfico de linhas.  
(B) Gráfico de colunas empilhada 3D.  
(C) Gráfico de pizza 3D.  
(D) Gráfico de dispersão (XY).
47. Dentro do Painel de Controle do Sistema Operacional Microsoft Windows 7 Home Premium, na sua instalação padrão, no idioma Português-Brasil, assinale a alternativa que contempla a funcionalidade: “Mostrar arquivos, pastas e unidades ocultas”.



- (A) Data e Hora.  
(B) Windows Defender.  
(C) Telefone e Modem.  
(D) Opções de Pasta.
48. “O usuário do Sistema Operacional Microsoft Windows 7 Ultimate pode compactar os arquivos que cria, os arquivos de programas ou mesmo pastas inteiras. O resultado é uma pasta compactada, identificada por um zíper em seu ícone.”  
Assinale a alternativa que descreve a sequência correta para efetuar a ação do parágrafo anterior. Considere a utilização do Microsoft Windows 7 Ultimate na sua instalação padrão, no idioma Português-Brasil, anterior à instalação de qualquer outro aplicativo.
- Edite o nome conforme for necessário e, em seguida, pressione ENTER.
  - Clique com o botão direito do mouse na seleção, clique em *Enviar para* e, em seguida, clique em *Pasta Compactada*. É criada uma pasta compactada com o nome de um dos arquivos selecionados. O nome da pasta fica selecionado para que o usuário possa alterá-lo.
  - No painel de conteúdo, selecione o arquivo, arquivos ou pastas que deseja compactar.
- (A) I / II / III  
(B) II / I / III  
(C) III / I / II  
(D) III / II / I

49. Associe corretamente os itens que seguem com a sua descrição, considerando estes termos comumente encontrados no Sistema Operacional Microsoft Windows 7 Ultimate.
- I. Área em que se trabalha na tela de um computador, na qual o usuário pode organizar janelas, ícones e atalhos para programas, pastas e arquivos de dados.
  - II. Link, normalmente representado por um ícone, que abre um programa, arquivo de dados ou dispositivo. Por exemplo, clicar em um link para o Microsoft Word inicia o Word.
  - III. Área na extremidade direita da barra de tarefas do Windows. Contém atalhos para programas e informações de status importantes.
  - IV. Barra vertical ou horizontal que o usuário pode mover para mudar a posição do conteúdo exibido dentro de uma janela.
- (A) I – área de trabalho / II – barra de rolagem / III – área de notificação / IV - atalho
- (B) I – área de trabalho / II – atalho / III – área de notificação / IV – barra de rolagem
- (C) I – barra de rolagem / II – área de notificação / III – atalho / I – área de trabalho
- (D) I – atalho / II – área de trabalho / III – barra de rolagem / IV – área de notificação

- 
50. Considerando a utilização do Sistema Operacional Microsoft Windows XP Professional, na sua instalação padrão, assinale a alternativa incorreta com relação ao item *Lixeira*.
- (A) Como padrão, o Windows XP Professional não exclui realmente um arquivo, em vez disso, ele é compactado e enviado para a pasta Lixeira.
  - (B) Um arquivo na pasta Lixeira não foi removido do disco rígido, foi apenas colocado como *inativo*.
  - (C) Para excluir realmente um item, sem enviá-lo à Lixeira, selecione este item e exclua-o pressionando CTRL + DELETE.
  - (D) A Lixeira é um bom local intermediário para manter arquivos que o usuário não está muito seguro que deseja excluir, porque é possível mudar de ideia após esta exclusão e, abrir a Lixeira e restaurar este item.